



PRIMJERAK ZA UČENIKA

Republika Srbija
MINISTARSTVO PROSVJETE
ZAVOD ZA VREDNOVANJE KVALITETA
OBRAZOVANJA I ODGOJA

ZAVRŠNI ISPIT NA KRAJU OSNOVNOG OBRAZOVANJA I ODGOJA

TEST
GEOGRAFIJA

IDENTIFIKACIONI OBRAZAC

IME, IME JEDNOG RODITELJA/DRUGOG ZAKONSKOG ZASTUPNIKA, PREZIME UČENIKA

IDENTIFIKACIONI BROJ UČENIKA

--	--	--	--	--	--	--	--	--	--

OSNOVNA ŠKOLA

MJESTO

OPĆINA


POTPIS DEŽURNOG NASTAVNIKA

Rezultati se mogu pogledati na portalu **Moja srednja škola**: <https://mojasrednjaskola.gov.rs> unosom jedinstvenog identifikacionog broja učenika (desetocifrena šifra učenika). Radi preuzimanja skeniranog testa u pdf formatu, u dijelu gdje su dostupni rezultati završnog ispita, neophodno je unijeti jedinstvenu šifru testa.

Jedinstvena šifra testa: 170620260849

Ukoliko roditelj / drugi zakonski zastupnik ima nalog na portalu **Moj esDnevnik** ili ima nalog na **Portal za elektronsku identifikaciju eID.gov.rs**, kojim pristupa portalu **Moj esDnevnik**, tada, osim uvida u rezultate završnog ispita, na portalu **Moja srednja škola** može iskoristiti i neku od sljedećih elektronskih usluga: podnošenje prigovora na rezultate završnog ispita, podnošenje elektronske liste želja i podnošenje elektronske prijave za upis u srednju školu.

UPUTSTVO ZA RAD

- Test koji trebaš riješiti ima **20 zadataka**. Za rad je predviđeno **120 minuta**.
- Zadatke ne moraš raditi prema redoslijedu kojim su dati.
- Tokom rada možeš se koristiti grafitnom olovkom i gumicom, ali se ne smiješ koristiti kalkulatorom i mobilnim telefonom.
- Konačne odgovore i postupak napiši **plavom hemijskom olovkom**.
- Odgovor koji je napisan samo grafitnom, crnom hemijskom ili „piši-briši“ olovkom neće biti priznat.
- U zadacima sa ponuđenim odgovorima neće biti priznati prepravljani odgovori.
- U zadacima sa ponuđenim odgovorima, u kojima je samo jedan tačan odgovor, dobijaš 0 bodova ukoliko pored tačnog odgovora označiš i neki netačan.
- Obrati pažnju da se zadaci razlikuju po načinu na koji trebaš dati odgovor.
- Nemoj ništa upisivati na QR kodove () , koji se nalaze na svakoj strani testa.

U nekim zadacima izabrat ćeš tačan odgovor tako što ćeš obojiti odgovarajući kružić. U zadacima u kojima postoji više tačnih odgovora potrebno je obojiti više kružića. Vodi računa da kružić bude obojen; mora biti obojen jer će ti samo tako odgovor biti priznat.

PRIMJER OBOJENIH KRUŽIĆA
<p>U zadatku sa jednim tačnim odgovorom</p> <p>Koji je glavni grad Republike Srbije? Oboj kružić ispred tačnog odgovora.</p> <p><input type="radio"/> Novi Sad <input checked="" type="radio"/> Beograd <input type="radio"/> Niš <input type="radio"/> Kruševac</p>
<p>U zadatku sa više tačnih odgovora</p> <p>Oboj kružiće ispred izraza čiji je zbir 5.</p> <p><input checked="" type="radio"/> 2 + 3 <input type="radio"/> 1 + 2 <input checked="" type="radio"/> 4 + 1 <input type="radio"/> 2 + 4 <input type="radio"/> 3 + 5</p>

- Ako završiš ranije, predaj test i tiho izađi.

Želimo ti mnogo uspjeha na ispitu!

ZAVRŠNI ISPIT NA KRAJU OSNOVNOG OBRAZOVANJA I ODGOJA
TEST
GEOGRAFIJA

1. Koja je međunarodna oznaka za istok?
Oboj kružić ispred tačnog odgovora.
- ☐ N ☐ S ☐ E ☐ W
2. Koji oblici reljefa su na kartama prikazani različitim nijansama zelene boje?
Oboj kružić ispred tačnog odgovora.
- ☐ planine ☐ visoravni ☐ nizije ☐ pustinje
3. Koja planeta se nalazi na najvećoj udaljenosti od Sunca?
Oboj kružić ispred tačnog odgovora.
- ☐ Saturn ☐ Neptun ☐ Jupiter ☐ Uran
4. Kako se naziva proces kretanja Zemlje oko Sunca?
Oboj kružić ispred tačnog odgovora.
- ☐ rotacija ☐ akumulacija ☐ revolucija ☐ erozija
5. Koje su najveće vodene površine na Zemlji?
Oboj kružić ispred tačnog odgovora.
- ☐ okeani ☐ mora ☐ rijeke ☐ jezera
6. Kako se naziva prosječan broj stanovnika po jednom kilometru kvadratnom teritorije?
Oboj kružić ispred tačnog odgovora.
- ☐ gustina naseljenosti ☐ prirodni priraštaj
- ☐ natalitet ☐ mortalitet
7. Koji kontinent ima najveći udio mladog stanovništva?
Oboj kružić ispred tačnog odgovora.
- ☐ Evropa ☐ Afrika ☐ Sjeverna Amerika ☐ Australija
8. Koja djelatnost pripada tercijarnom sektoru privrede?
Oboj kružić ispred tačnog odgovora.
- ☐ nauka ☐ šumarstvo ☐ ugostiteljstvo ☐ građevinarstvo

9. Na kom kontinentu se nalazi najmnogoljudnija država svijeta?
Oboj kružić ispred tačnog odgovora.

☐ Sjevernoameričkom ☐ Evropskom ☐ Afričkom ☐ Azijskom

10. Na kojoj hemisferi se čitavom svojom površinom nalazi Evropa?
Oboj kružić ispred tačnog odgovora.

☐ sjevernoj ☐ južnoj ☐ istočnoj ☐ zapadnoj

11. U kom mjesecu se na sjevernoj Zemljinoj hemisferi javlja kratkodnevica?
Oboj kružić ispred tačnog odgovora.

☐ januaru ☐ junu ☐ septembru ☐ decembru

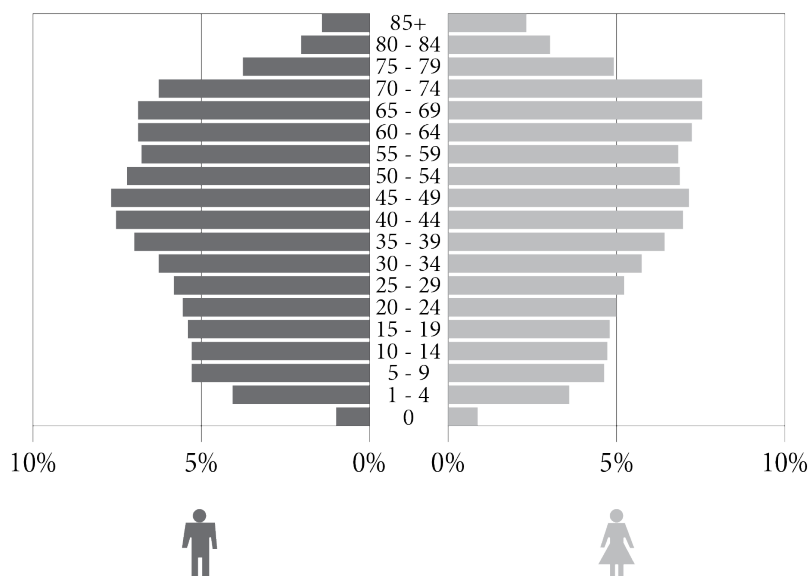
12. Oboj kružić u odgovarajućem polju tako što ćeš povezati tipove jezera sa načinom postanka njihovog basena.

	tektonska	kraška	eolska
Nastaju kada voda ispuni udubljenja u krečnjačkom prostoru.	<input type="radio"/>	<input type="radio"/>	<input type="radio"/>
Nastaju kada voda ispuni dijelove kopna spuštene duž raseda.	<input type="radio"/>	<input type="radio"/>	<input type="radio"/>
Nalaze se u udubljenjima nastalim radom vjetra.	<input type="radio"/>	<input type="radio"/>	<input type="radio"/>

13. Koja od navedenih država nije članica Evropske unije?
Oboj kružić ispred tačnog odgovora.

☐ Bugarska
☐ Belgija
☐ Švicarska
☐ Španija

14. Koje su odlike polno-starosne piramide Srbije koja je prikazana na slici?



Oboj kružić ispred tačnog odgovora.

- ☐ veće učešće starog stanovništva u odnosu na mlado
- ☐ najveći udio stanovništva starosti 30–34 godina
- ☐ najveći udio mladog stanovništva
- ☐ manje učešće žena u odnosu na muškarce starosti 80–84 godine

15. Koja rijeka je usjekla Ovčarsko-kablarску klisuru?

Oboj kružić ispred tačnog odgovora.

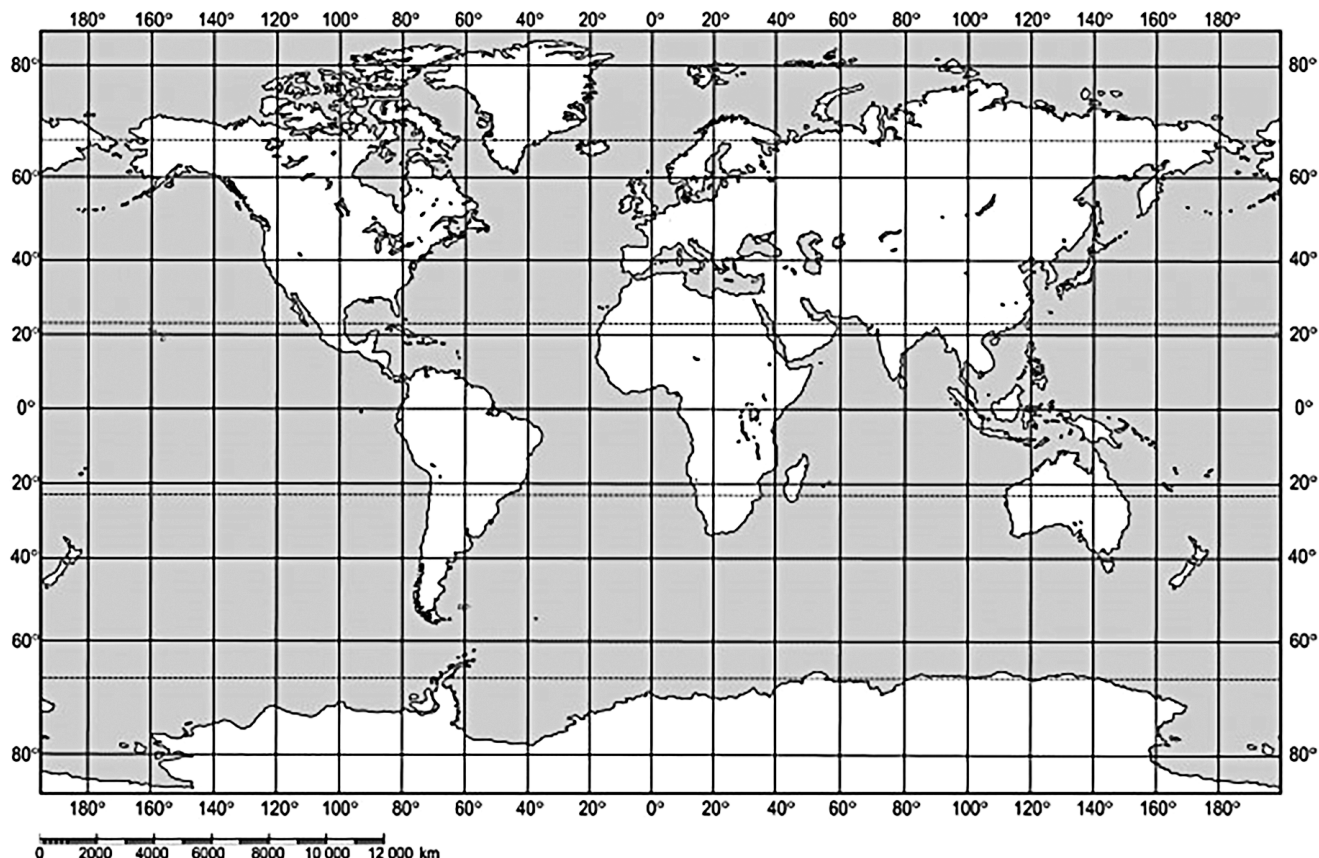
- ☐ Velika Morava
- ☐ Južna Morava
- ☐ Zapadna Morava
- ☐ Binačka Morava

16. Koji dio Azije ima najrazuđeniju obalu?

Oboj kružić ispred tačnog odgovora.

- ☐ Jugozapadna Azija
- ☐ Centralna Azija
- ☐ Južna Azija
- ☐ Jugoistočna Azija

17. U kom okeanu se nalazi tačka sa koordinatama 30° SGŠ i 30° ZGD?



Oboj kružić ispred tačnog odgovora.

- ☐ Sjevernom ledenom ☐ Atlantskom ☐ Indijskom ☐ Tihom

18. U posjeti si manifestaciji „Dani Jovana Cvijića” u Loznici. Do koje najbliže banje možeš da napraviš izlet?
Oboj kružić ispred tačnog odgovora.

- ☐ banje Vrdnik ☐ banje Koviljače ☐ Sokobanje ☐ Vrnjačke banje

19. Koje države se jednim dijelom nalaze u Panonskoj niziji?
Oboj **kružiće** ispred tačnih odgovora.

- ☐ Grčka ☐ Bugarska ☐ Hrvatska ☐ Albanija ☐ Slovenija

20. Najduža je rijeka Angloamerike. Spaja se sa Misurijem kod grada Sent Luisa. Teče meridijanskim pravcem kroz Središnju niziju. Pri ušću u Meksički zaljev formira veliku deltu.
Koja je ovo rijeka?
Oboj kružić ispred tačnog odgovora.

- ☐ Misisipi ☐ Makenzi ☐ Mekong ☐ Mari

PRAZNA STRANA



Republika Srbija
MINISTARSTVO PROSVJETE
ZAVOD ZA VREDNOVANJE KVALITETA
OBRAZOVANJA I ODGOJA

PRIMJERAK ZA ŠKOLU

ZALIJEPI IDENTIFIKACIONU
NALJEPNICU

ZAVRŠNI ISPIT NA KRAJU OSNOVNOG OBRAZOVANJA I ODGOJA

TEST
GEOGRAFIJA

IDENTIFIKACIONI OBRAZAC

IME, IME JEDNOG RODITELJA/DRUGOG ZAKONSKOG ZASTUPNIKA, PREZIME UČENIKA

IDENTIFIKACIONI BROJ UČENIKA

--	--	--	--	--	--	--	--	--	--

OSNOVNA ŠKOLA _____

MJESTO _____

OPĆINA _____

POTPIS DEŽURNOG NASTAVNIKA